

Correction



[œ]



eur, euf, eul, œur, œuf

1 Écris les mots.




un aspirateur



un facteur



un chanteur



un radiateur

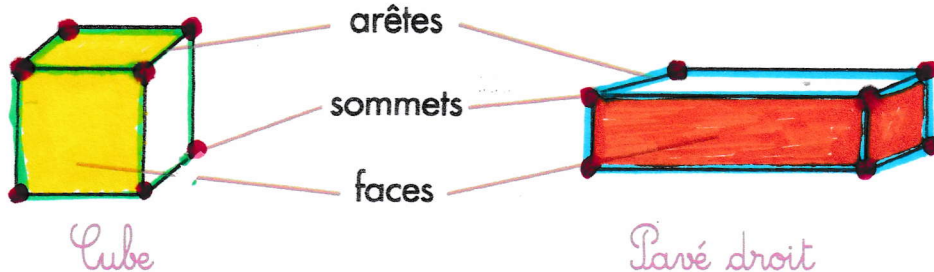
2 Barre le mot intrus dans chaque liste.

a. pleurnicher • vainqueur • ~~peureuse~~ • erreur

b. douleur • serviteur • ~~fleurir~~ • hauteur


c. cœur • sœur • chœur • ~~secouer~~

Correction

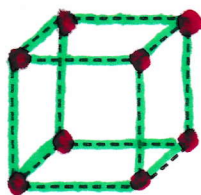


- Repasse les arêtes du cube en vert et celles du pavé droit en bleu.
- Colorie 2 faces du cube en jaune et 2 du pavé en orange.
- Marque, d'un point rouge, tous les sommets que tu vois.
- Combien y a-t-il de sommets que tu ne vois pas ? *1 sommet pour le cube et 1 sommet pour le pavé.*

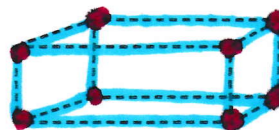
1. Colorie les cubes en vert et les pavés droits en bleu.



2. Écris le nom de chaque solide.



un cube



un pavé


- Repasse en vert les arêtes du cube et en bleu celles du pavé droit.
- Marque tous les sommets en rouge.

3. Indique le nombre :

- de faces : *6*
- d'arêtes : *12*
- de sommets : *8*



Au paradis des jouets



- 1 Quel est le jouet qui coûte le plus cher ? l'avion en bois
- 2 Combien de jouets fonctionnent avec des piles ? 3 jouets
- 3 Quelle est la hauteur de la poupée ? 23 cm
- 4 Combien de ballons sont en cuir ? 2 ballons
- 5 La voiture est proposée en combien de coloris différents ? 6 coloris
- 6 Ma sœur qui a 4 ans pourra-t-elle jouer avec la voiture ? non
- 7 Quel est le jouet qui demande le plus de piles ? la voiture
- 8 Quelle est la longueur de la ficelle du cerf-volant ? 75 mètres
- 9 Quelles sont les trois sortes de ballon ?

ballon de football ballon de basket ballon de rugby

- 10 Combien de jouets sont en métal ? 2 jouets

